

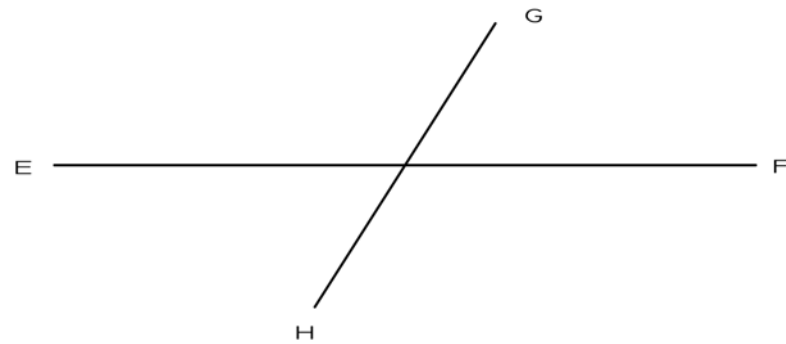
Etiqueta identificativa del alumno

INSTRUCCIONES PARA LA REALIZACIÓN DE LA PRUEBA. El alumno deberá contestar solo a una de las dos opciones propuestas: A o B.

Todos los ejercicios se resolverán en esta hoja de examen, pudiéndose utilizar el cuadernillo facilitado por el tribunal para operaciones en "sucio". No obstante lo anterior, si algún alumno estima que el espacio proporcionado para la resolución de un determinado ejercicio no fuera suficiente, podrá resolverlo en el cuadernillo de examen, debiendo indicarlo con la expresión "RESUELTO EN EL CUADERNILLO" o similar. La ejecución del dibujo se hará con lápiz, portaminas o similar utilizando diferentes durezas, grosores y/o colores a fin de diferenciar trazados auxiliares, soluciones intermedias, soluciones finales, etc. No se deben borrar las construcciones auxiliares empleadas. Se podrá utilizar cualquier instrumento de dibujo, incluida calculadora no programable. Se adherirá una pegatina a esta hoja en el espacio reservado a tal efecto antes de entregar el examen. Al finalizar, se doblará esta hoja de examen, se grapará al cuadernillo y se entregarán ambos. La duración de la prueba es de 90 minutos.

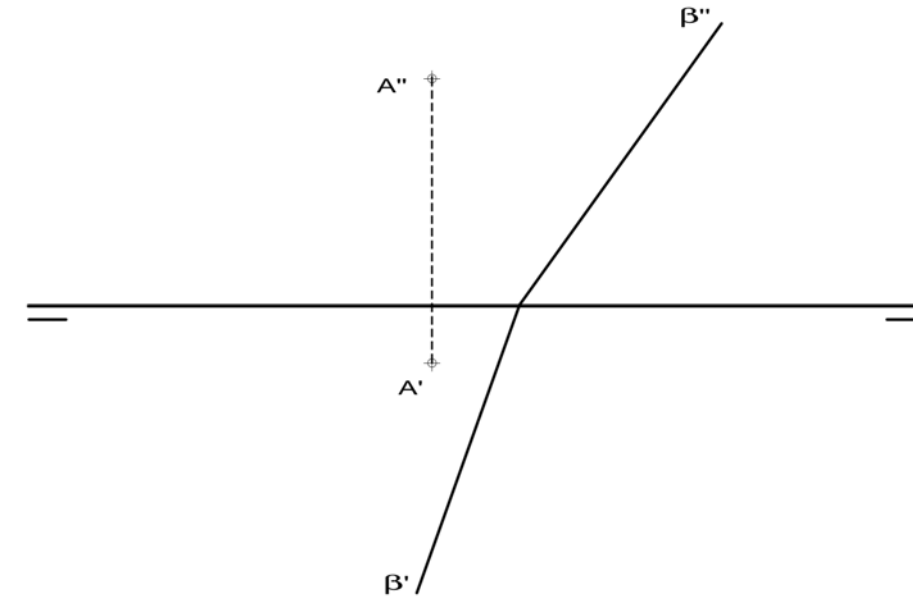
**EJERCICIO 1** (3 puntos)

Dibuja los ejes (AB y CD) de la elipse dada por los diámetros conjugados EF y GH.



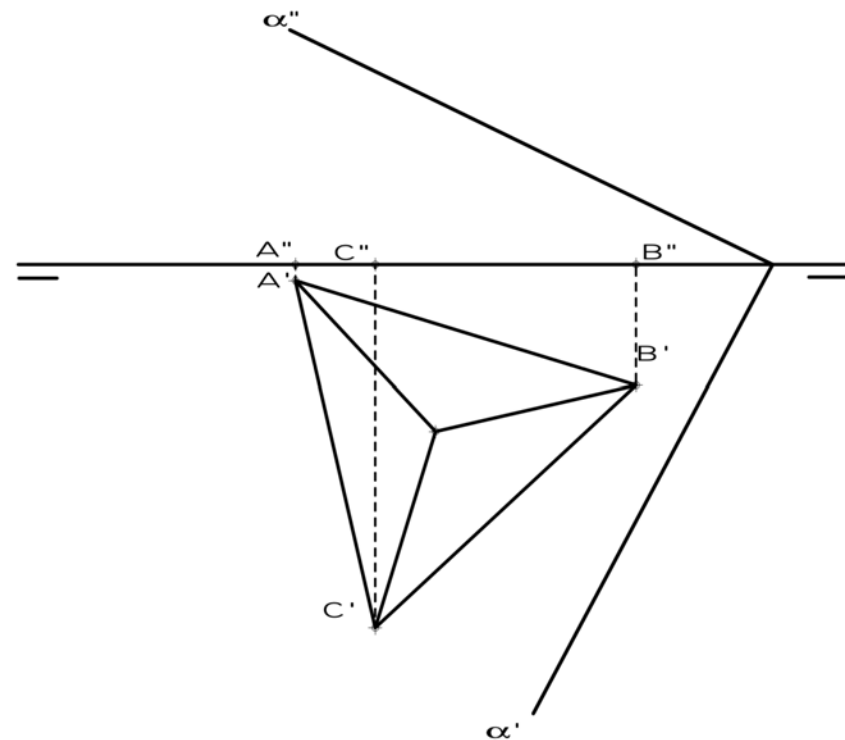
**EJERCICIO 3** (2 puntos).

Por el punto A, dado por sus proyecciones, traza un plano  $\alpha$  perpendicular al plano  $\beta$ .



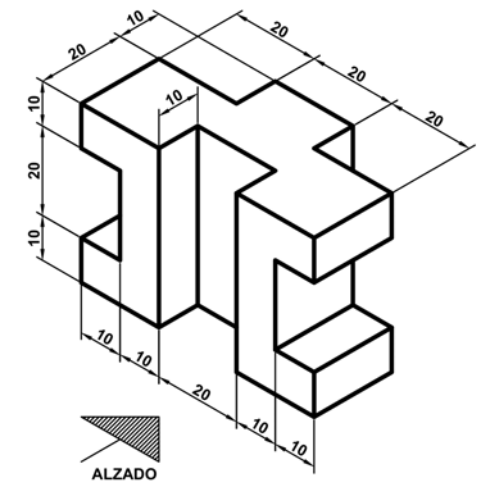
**EJERCICIO 2** (2 puntos).

Completa las proyecciones que faltan del tetraedro y halla la verdadera magnitud de la sección que le produce el plano  $\alpha$ .



**EJERCICIO 4** (3 puntos).

Dibuja las vistas (alzado, planta y perfil) de la pieza dada en isométrica, según el método del primer diedro (sistema europeo). Escala: 1:1; medidas expresadas en milímetros. No es necesario acotar las vistas. Dibuja las aristas ocultas en línea discontinua.



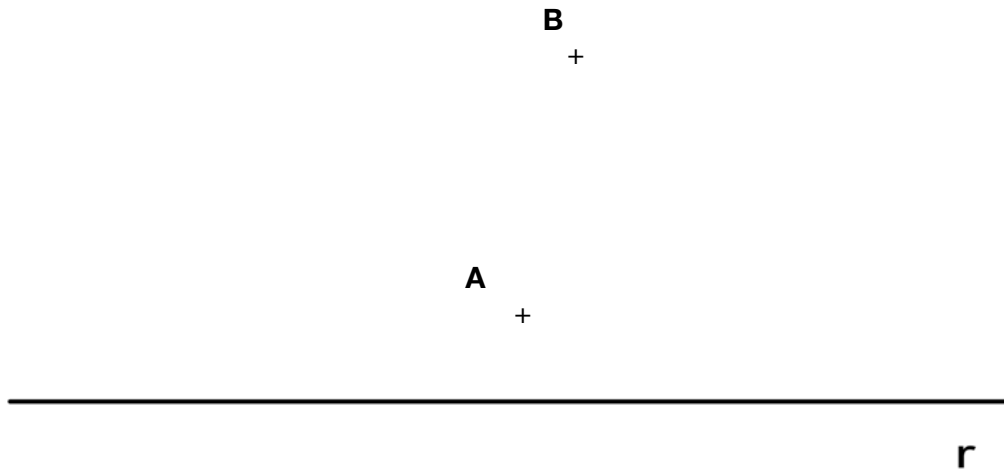
Etiqueta identificativa del alumno

INSTRUCCIONES PARA LA REALIZACIÓN DE LA PRUEBA. El alumno deberá contestar solo a una de las dos opciones propuestas: A o B.

Todos los ejercicios se resolverán en esta hoja de examen, pudiéndose utilizar el cuadernillo facilitado por el tribunal para operaciones en "sucio". No obstante lo anterior, si algún alumno estima que el espacio proporcionado para la resolución de un determinado ejercicio no fuera suficiente, podrá resolverlo en el cuadernillo de examen, debiendo indicarlo con la expresión "RESUELTO EN EL CUADERNILLO" o similar. La ejecución del dibujo se hará con lápiz, portaminas o similar utilizando diferentes durezas, grosores y/o colores a fin de diferenciar trazados auxiliares, soluciones intermedias, soluciones finales, etc. No se deben borrar las construcciones auxiliares empleadas. Se podrá utilizar cualquier instrumento de dibujo, incluida calculadora no programable. Se adherirá una pegatina a esta hoja en el espacio reservado a tal efecto antes de entregar el examen. Al finalizar, se doblará esta hoja de examen, se grapará al cuadernillo y se entregarán ambos. La duración de la prueba es de 90 minutos.

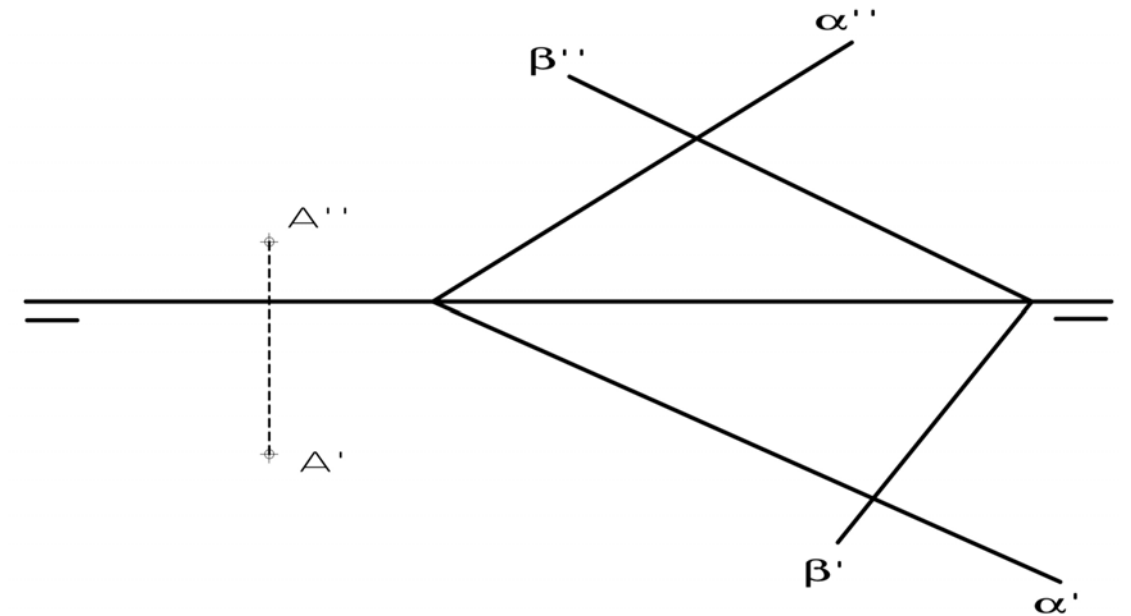
**EJERCICIO 1** (3 puntos)

Dibuja las circunferencias tangentes a la recta  $r$  que pasan por los puntos A y B.



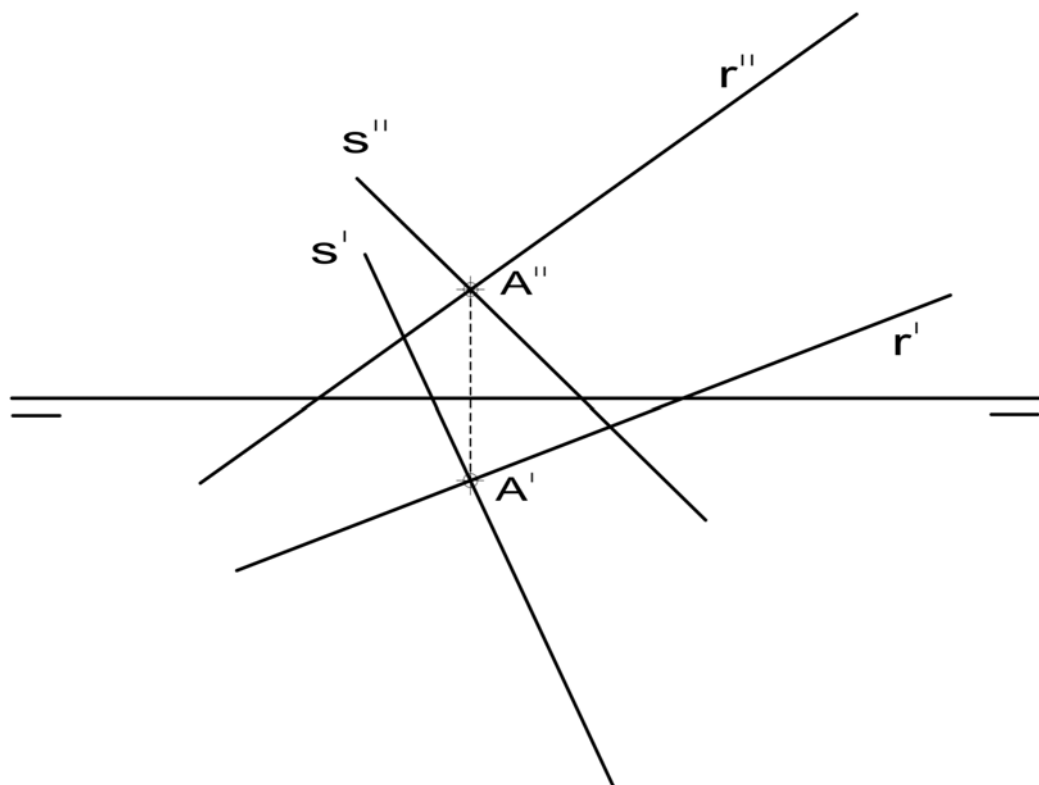
**EJERCICIO 3** (2 puntos).

Dibuja las proyecciones de una recta  $R$ , paralela a los planos  $\alpha$  y  $\beta$ , que pase por el punto A.



**EJERCICIO 2** (2 puntos).

Dibuja las trazas del plano  $\alpha$  generado por las rectas  $R$  y  $S$ , dadas por sus proyecciones, al cortarse en el punto A. No se han diferenciado partes vistas y ocultas de las rectas.



**EJERCICIO 4** (3 puntos).

Dibuja la pieza, dada por sus vistas, en perspectiva isométrica. No se tendrá en cuenta el coeficiente de reducción. Escala 1:1. Medidas indicadas en mm. Método del primer diedro (sistema europeo). Utiliza el punto O como origen de los ejes.

+ O

